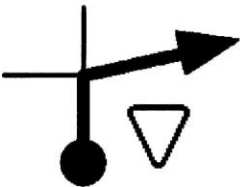
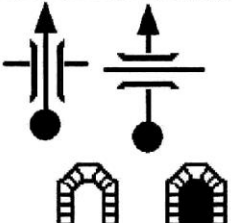






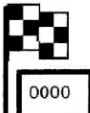
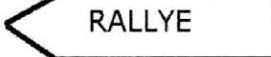
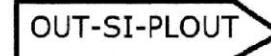








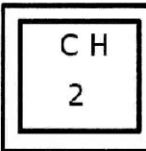

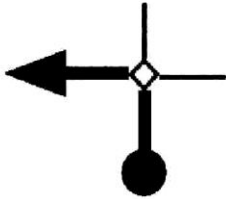






**(A) Liège-Nancy-Liège mode emploi 2023**  
**92,0 Km**

		
<b>1,5</b>   28   <b>3,2</b>	<b>0,5</b>   32   <b>45,8</b>	
		90 km → 4  20 km → 4  4  ↑ 
<b>1,7</b>   27   <b>1,7</b>	<b>2,1</b>   31   <b>45,3</b>	<b>8,1</b>   35   <b>67,1</b>
1 h 10' → CH 3 	  	      
<b>0,2</b>   26   <b>0,2</b>	<b>21,2</b>   30   <b>43,2</b>	<b>11,5</b>   34   <b>59,0</b>
Au Terminus  	LIEGE 	   
<b>0,0</b>   25   <b>0,0</b>	<b>18,8</b>   29   <b>22,0</b>	<b>1,7</b>   33   <b>47,5</b>

Le Road-book se lit de bas en haut et de gauche à droite, (sauf pour les modèles E – F) .

En l'absence de notes, on ne change pas de route. On se base pour cela sur le marquage routier du centre de la chaussée, d'un marquage latéral qui montre le point d'arrêt des autres routes, les marques du trafic sur la chaussée... En cas de doute, pensez à regarder si un signe dont un modèle se trouve au podium de départ n'a pas été placé...

**Quelques particularités :**

25. Nous sommes à la case 25, au CH 2.

Il y a possibilité d'obtenir une boisson.

On dispose de 1h10 minutes pour arriver au CH 3

Un drapeau se trouve là où il faut faire la remise à zéro de votre compteur.

27 Panneau d'agglomération **50 km/h**. Belgique et France fond Blanc  
Grand Duché fond jaune

29.. Ce carrefour est situé 3 km du carrefour précédent.

**Le carré dessiné dans le carrefour signifie qu'il y a un ou des îlots, ou des flèches directionnelles, ou...**

30. Le panneau directionnel est placé dans un cadre car il n'est pas visible à l'approche du carrefour. Il faut parfois se retourner

31 Le gros trait est séparé du carrefour pour attirer votre attention sur le fait que la

route à suivre quitte la route sur laquelle nous étions et que nous devons donc céder

la priorité aux véhicules qui circulent sur l'autre bande

32. On passe sur un pont, sous un pont ; on rencontre un tunnel éclairé ou sombre

33.. a. un danger existe : soit carrefour dangereux, soit...

b. la route à prendre est peu visible, risque de se tromper de route...

c. présence d'un radar,

d. un point de vue à admirer

35 Le point de repère est une église, une petite chapelle, une croix, un monument, un

miroir, une maison, un château, une porte de ville

36. Cette station située à gauche de la route. Il y a 4 pistolets

. Les deux prochaines stations sont situées respectivement à 20 et 90 km de celle-ci

Il y aura 4 pistolets aux deux.